




一、選出正確的答案：每題 5 分，共 25 分

- () 有 12 顆糖果，每 3 顆裝 1 袋，共可以裝幾袋？
 ① 3 袋 ② 4 袋 ③ 5 袋。
- () 有 21 個布丁，每 3 個裝 1 盒，共可以裝幾盒？
 ① 5 盒 ② 6 盒 ③ 7 盒。
- () 14 片餅乾平分給 7 個人，每個人分到幾片餅乾？
 ① 2 片 ② 4 片 ③ 6 片。
- () 18 件衣服平分給 6 個人，每個人分到幾件衣服？
 ① 2 件 ② 3 件 ③ 4 件。
- () 包裝一個禮物要 5 公分長的緞帶，姐姐買了長 30 公分長的緞帶，最多可以包裝幾個禮物？ ① 4 個 ② 5 個 ③ 6 個。

二、做做看看：每題 8 分，共 24 分

- 有 48 枝鉛筆，每 8 枝裝在 1 個盒子裡，剛好可以裝成 () 盒。圈圈看看。
 ○○○○○○○○○
 ○○○○○○○○○
 ○○○○○○○○○
 ○○○○○○○○○
- 桌上有 30 顆糖果，每 6 顆裝成 1 袋，共可以裝成 () 袋。圈圈看看。
 ○○○○○○○○○
 ○○○○○○○○○
 ○○○○○○○○○
- 把 18 張圖卡平分給 3 個學生，每個學生分到 () 張圖卡。用 ○ 畫畫看看。

三、老師把煮好的 40 粒茶葉蛋分裝販售，每 10 粒裝成 1 袋，共可以裝成幾袋？做做看看：每題 8 分，共 24 分

- 把做法用算式記下來。
 答：_____
- 用減法算式解題時，被減數的 10 表示什麼？對的打 。
 每袋各裝 1 粒茶葉蛋
 一袋裝進 10 粒茶葉蛋
- 接第 2 題，怎麼知道可以裝成幾袋？對的打 。
 總共減了幾次 10
 減了 10 之後的答案

四、把做法用算式記下來：每題 9 分，共 27 分

- 奶奶有 24 顆果凍，每 8 顆分給 1 個人，可以分給幾個人？
 答：_____
- 20 顆水蜜桃平分裝成 4 箱，每箱有幾顆水蜜桃？
 答：_____
- 爺爺買了 14 條魚，平分放進 2 個魚缸裡，一個魚缸要裝幾條魚？
 答：_____