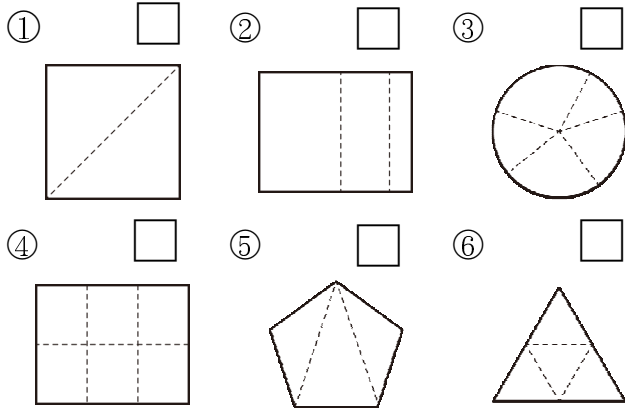
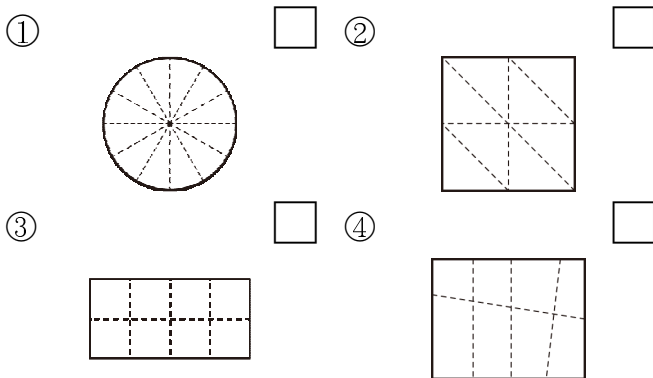


一、下面各的圖形中，有等分份的畫○，沒有等分份的打×：每題5分，共30分



二、下面各的圖形中，被等分份成8份的打√：每題5分，共20分



三、先分份看看，再塗上一塗：每題6分，共12分

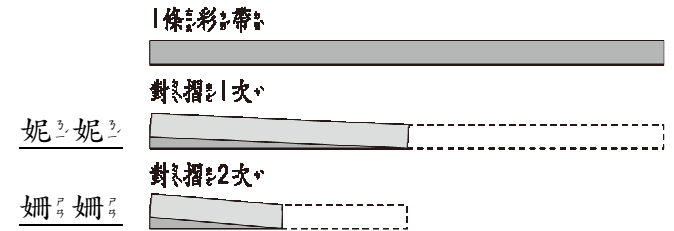
1. 把 $\frac{1}{6}$ 個披薩塗上顏色

1 個披薩

2. 把 $\frac{1}{8}$ 張卡片塗上顏色

1 張卡片

四、看看圖填填看看、圖圖看看：每題6分，共18分




▲ 妮妮和冊冊各有一條一樣長的彩帶。

- 妮妮對摺1次，其中1段是()條彩帶。
- 冊冊對摺2次，其中1段是()條彩帶。
- (妮妮 , 冊冊) 的其中1段彩帶比較長。

五、做做看看：每小題5分，共20分

1. 每幅圖畫都缺少了一塊，缺的那一塊是幾幅圖畫？連連看看。



1 幅圖畫

① . $\frac{1}{2}$ 幅圖畫

② . $\frac{1}{4}$ 幅圖畫

③ . $\frac{1}{10}$ 幅圖畫

2. $\frac{1}{10}$ 幅圖畫和 $\frac{1}{4}$ 幅圖畫，哪一幅比較大？圈圈看看。

($\frac{1}{10}$ 幅圖畫 , $\frac{1}{4}$ 幅圖畫)