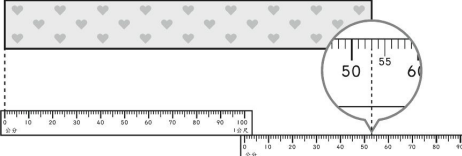
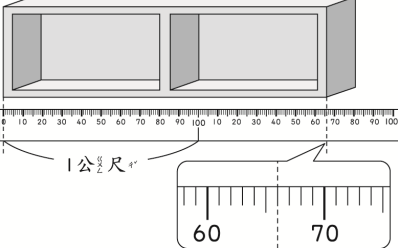


一、圖圖看看：每題 4 分，共 28 分

1. 弟弟的大拇指的長度比 1 公尺 (長 , 短)。
2. 大樓的高度比 1 公尺 (長 , 短)。
3. 鉛筆的長度比 1 公尺 (長 , 短)。
4. 黑板的長度大約是 4 (公分 , 公尺)。
5. 牙刷的長度大約是 20 (公分 , 公尺)。
6. 旗杆的高度大約是 6 (公分 , 公尺)。
7. 公車的車身長大約是 11 (公分 , 公尺)。

二、看看圖填填看看：每格 2 分，共 12 分

1. 
 緞帶長是 () 公尺 () 公分，也可以說是 () 公分。

2. 
 櫃子長是 () 公尺 () 公分，也可以說是 () 公分。

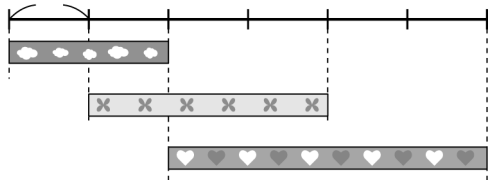



三、根據小朋友的敘述，由高到矮填入 1~3：每題 4 分，共 12 分

1. () 天天：我的身高是 121 公分。
2. () 小福：我比 天天 矮。
3. () 安琪：我比 天天 高。

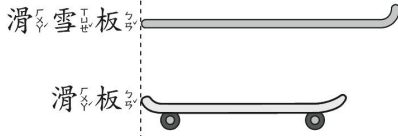
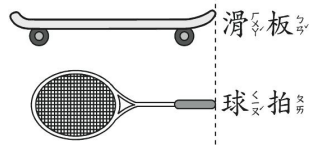
四、填填看看：每格 3 分，共 24 分

1. 800 公分是 () 公尺。
2. 10 公尺是 () 公分。
3. 446 公分也可以說是 () 公尺 () 公分。
4. 5 公尺 2 公分也可以說是 () 公分。
5. 聖誕樹的高度是 328 公分，也可以說是 () 公尺 () 公分。
6. 小敏 的一根長大約是 10 公分，桌子的一邊長和 小敏 的一根一樣長，桌子的一邊長大約是 () 公分。

五、線段圖每段長都是 1 公尺，看看圖填填看看：每題 4 分，共 12 分

1 公尺 
 1.  長 () 公尺。
- 2.  長 () 公尺。
- 3.  長 () 公尺。

六、看看圖圖看看：每題 4 分，共 12 分

1. 
 (滑雪板 , 滑板) 比較長。
2. 
 (滑板 , 球拍) 比較長。
3. 接 1、2 題，滑雪板和球拍，哪一個比較長？
 (滑雪板 , 球拍) 比較長。