



一、圖圖看看，再填填入答案：每題8分，共16分

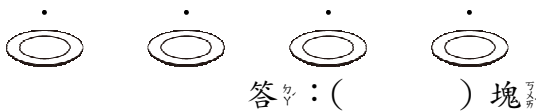
1. 25顆蘋果，每5顆裝1袋，可以裝成( )袋。



2. 28架飛機，每7架排成一排，可以排成( )排。



二、有12塊巧克力，平均分成4盤，每盤有幾塊巧克力？先連連看看，再填填入答案：每條線1分，答4分，共16分



三、桌上有12顆葡萄，下面敘述對的打√，錯的打×：每題4分，共12分

- 平均分給2個人，每個人分得5顆。
- 平均分給3個人，每個人分得4顆。
- 平均分給6個人，每個人分得2顆。

四、有63朵花，平均分給9個人，每個個人分到幾朵花？做做看看：第1題7分，第2題9分，共16分

1. 把做法用算式記下來。

答：\_\_\_\_\_

2. 一次每個個人分到1朵，一次分掉( )朵，分了( )次剛好分完，所以每個個人分到( )朵花。

五、把做法用算式記下來：每題8分，共40分

1. 爺爺到超市買24個布丁，回家後每6個分給1個人，可以分給幾個人？

答：\_\_\_\_\_

2. 有56個人報名參加跳繩比賽，要平均分成8組，每組有幾個人？

答：\_\_\_\_\_

3. 一條繩子長32公分，每8公分剪成一段，可以剪成多少段？

答：\_\_\_\_\_

4. 老師買了42個紅豆餅，平均分給7位小朋友，每位小朋友可以分到幾個？

答：\_\_\_\_\_

5. 40枝鉛筆平均分裝在5個鉛筆盒裡，每個鉛筆盒可以裝幾枝鉛筆？

答：\_\_\_\_\_